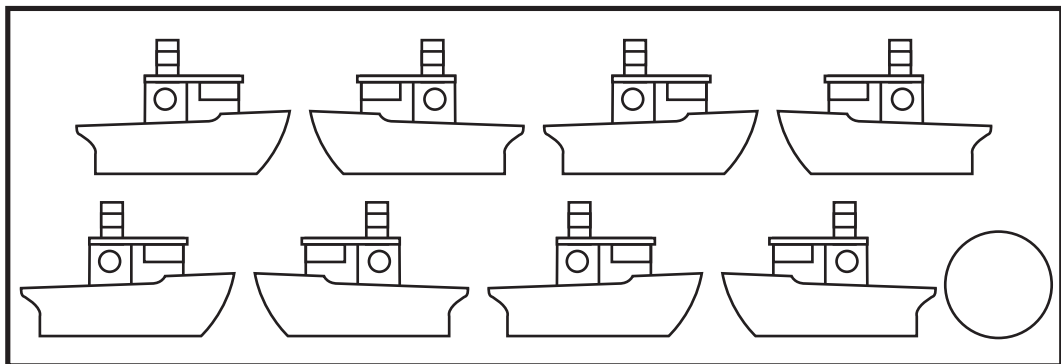
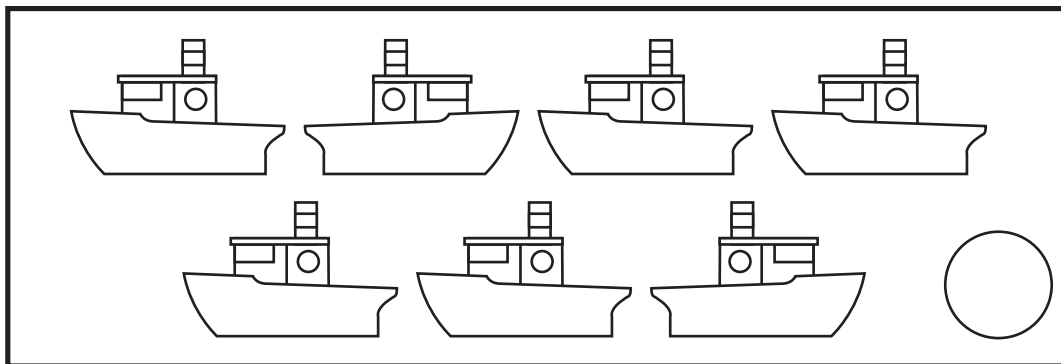
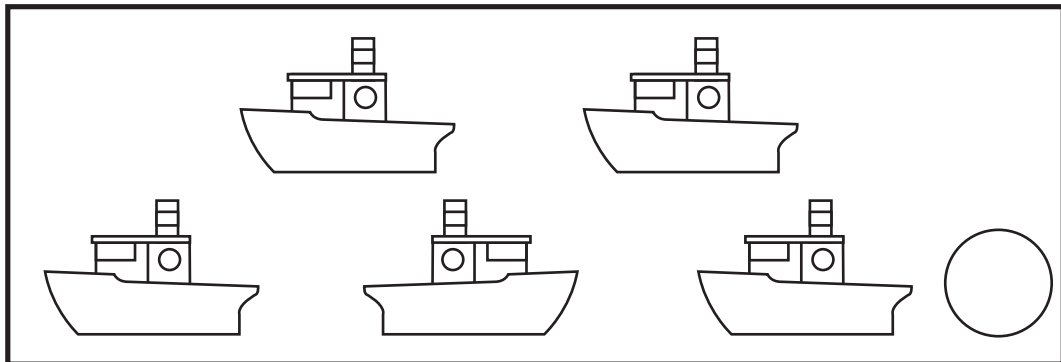


Счёт предметов. Числа до 10.

✿ Напиши, сколько корабликов нарисовано на каждой картинке. Раскрась ту, где два кораблика плывут направо.




Количественный и порядковый счёт.

✿ Сосчитай звёздочки. Вторую слева звёздочку раскрась в красный цвет, четвёртую справа – в зелёный.



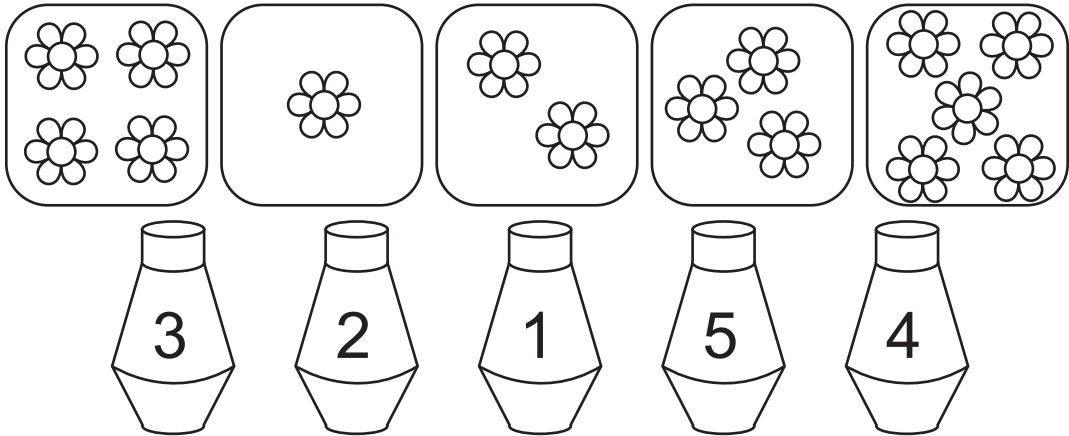
✿ Сосчитай оставшиеся белые звёздочки. Какие они по счёту слева во всём ряду? Соедини их с соответствующими цифрами. Лишние цифры зачеркни.































✿ Вставь пропущенные цифры.

Цифры и числа.

✿ Сосчитай цветы и соедини их с нужными вазами.





✿ Раскрась на каждой строке столько квадратов, сколько показывает цифра в начале строки.

1							
2							
3							
4							

Сравнение чисел.

✿ Сравни числа на птичках. В каждой паре раскрась ту, на которой число больше.



Цифры 1 – 9.

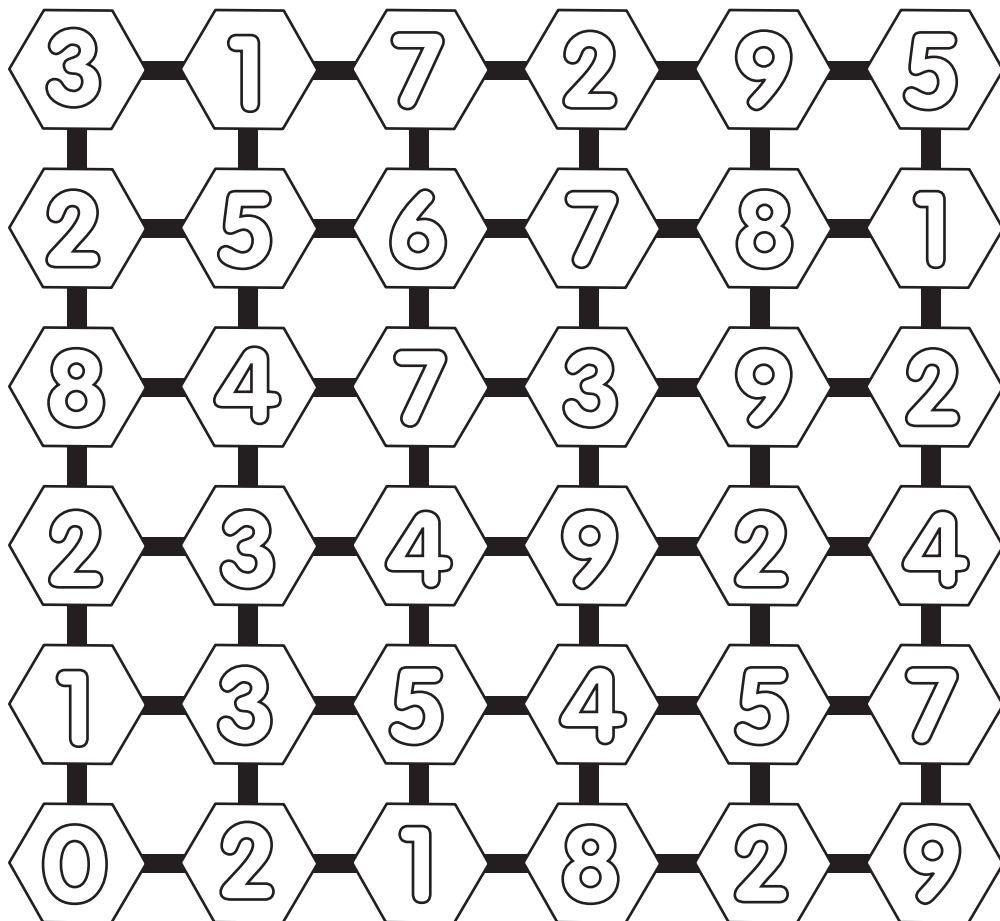
✿ Раскрась по цифрам.



- | | | |
|---------------|------------------|-----------------|
| ○ 1 – жёлтый | ○ 4 – коричневый | ○ 7 – красный |
| ○ 2 – зелёный | ○ 5 – синий | ○ 8 – оранжевый |
| ○ 3 – серый | ○ 6 – голубой | ○ 9 – бордовый |

Числовой ряд.

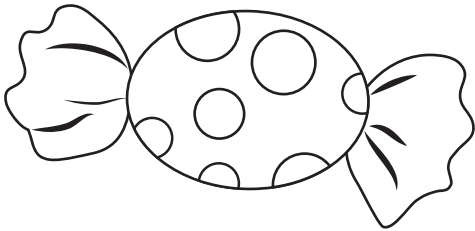
✿ Чтобы найти выход из лабиринта, следуй по цифрам от 0 до 9. Раскрась цифры найденного пути красным цветом.



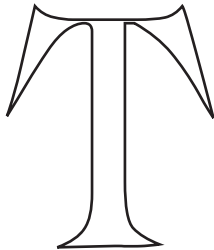
↑
ВХОД

Состав чисел.

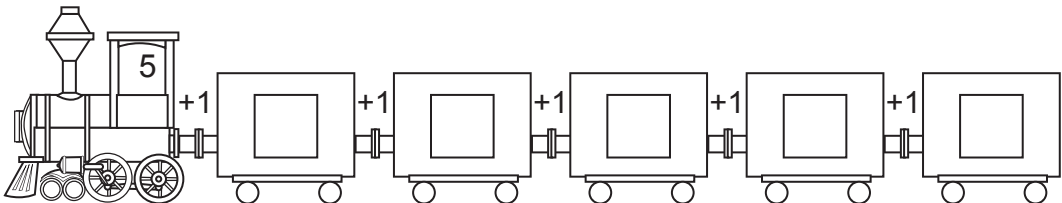
☼ Конфета стоит 3 рубля. Набери монетами 3 рубля разными способами.



☼ Какая цифра спряталась в ребусе?



☼ Реши примеры. В окошках вагончиков запиши ответы.



Содержание

Счёт предметов. Числа до 10.....	1
Количественный и порядковый счёт.....	2
Цифры и числа.....	3
Сравнение чисел.....	4
Цифры 1—9.....	5
Числовой ряд.....	6
Состав чисел.....	7
Сложение и вычитание в пределах 10.....	10
Числовой ряд от 1 до 20.....	20
Сложение и вычитание в пределах 20.....	22
Математические головоломки.....	30
Математический кроссворд.....	32